

阜新高等专科学校单独招生考试

《职业适应性测试》复习参考题

(共 300 题, 单选 240 题, 判断 60 题)

一、单项选择题

- (C) 是中华民族的精神命脉。
A. 中国历史 B. 社会主义核心价值观
C. 中华优秀传统文化 D. 社会主义核心价值体系
- (A) 是我们立党立国、兴党兴国的根本指导思想。
A. 马克思主义 B. 马克思列宁主义
C. 共产主义理论 D. 科学社会主义
- 建设社会主义文化强国, 必须培养高度的 (B)
A. 文化自觉 B. 文化自信
C. 文化创造力 D. 文化软实力
- (A) 是担负文化使命、实现中华民族伟大复兴的根本保证。
A. 党的领导 B. 文化发展繁荣
C. 文化自信 D. 科学的民族的大众的文化
- 习近平总书记的重要讲话凝练概括了中华文明的突出特性, 深刻阐明了“两个结合”特别是“第二个结合”的重大意义, 鲜明提出了更好担负起新的文化使命的重要要求, 对建设中华民族现代文明进行了战略部署, 是新时代党领导文化建设实践经验的理论总结。其中第二个结合的内容是: (B)
A. 同中国实际相结合
B. 同中华优秀传统文化相结合
C. 同历史相结合
D. 同经济相结合
- 党的二十大报告指出, 必须坚持科技是第一生产力、(B) 是第一资源、创新是第一动力。
A. 信息 B. 人才
C. 土地 D. 海洋
- 建设现代化产业体系, 要坚持把发展经济的着力点放在 (D) 上, 积极推进新型工业化, 推动制造业高端化、智能化、绿色化发展。
A. 创新经济 B. 绿色经济
C. 虚拟经济 C. 实体经济
- 构建人类命运共同体思想, 核心是“建设持久和平、普遍安全、共同繁荣、(D) 的世界”。
A. 开放包容、合作共赢 B. 清洁美丽、合作共赢
C. 合作共赢、持续发展 D. 开放包容、清洁美丽
- 坚持和加强党的全面领导, 坚持党要管党、全面从严治党, 以 (C) 为根基。
A. 加强党的长期执政能力建设、先进性和纯洁性建设
B. 党的政治建设
C. 坚定理想信念宗旨
D. 调动全党积极性、主动性、创造性
- 目前, 世界上最大的能源消费国是 (B)
A. 美国 B. 中国

- C. 俄罗斯 D. 印度
11. 建设（ D ）是顺应人类文明进程、实现人与自然和谐共生的必然要求，具有历史必然性。
- A. 原始文明 B. 农业文明
C. 工业文明 D. 生态文明
12. 2023 年 10 月 7 日至 8 日，（ A ）会议在北京召开。会议最重要的成果就是首次提出了习近平文化思想。
- A. 全国宣传思想文化工作
B. 全国教育工作会议
C. 全国文化工作会议
D. 全国思想工作会议
13. 习近平总书记曾说：“泰山半腰有一段平路叫‘快活三里’，一些人爬累了，喜欢在此歇脚，然而，挑山工一般不在此久留，因为休息时间长了，腿就会‘发懒’，再上‘十八盘’就更困难了。”这对党的建设的启示是：（ C ）
- A. 要以钉钉子精神担当尽责一国两制
B. 要全面提高领导能力和执政水平
C. 作风建设永远在路上，人民民主必须常抓不懈
D. 应当以马克思主义科学理论武装头脑
14. 推动创新发展、协调发展、绿色发展、开放发展、共享发展，前提都是（ A ）和社会稳定。
- A. 国家安全
B. 经济飞跃
C. 文明发展
D. 社会稳定
15. 我们要深入实施大气、水、土壤污染防治三大行动计划，深入打好蓝天、（ B ）、净土保卫战，开展农村人居环境整治。
- A. 耕地
B. 碧水
C. 空气
D. 人民
16. 确保党始终总揽全局、协调各方，必须增强政治意识、大局意识、（ B ）、看齐意识，自觉维护党中央权威和集中统一领导，自觉在思想上政治上行动上同党中央保持高度一致。
- A. 统领意识
B. 核心意识
C. 中心意识
D. 领导意识
17. 2023 年 11 月 4 日，我国国产首艘大型邮轮“（ B ）”命名交付。
- A. 爱达·春城号
B. 爱达·魔都号
C. 忆梦·蓉城号
D. 忆梦·泉城号
18. 2023 年 11 月 27 日，政治局召开会议强调，推动长江经济带高质量发展，根本上依赖于（ B ）
- A. 干部群众高质量的思想认识

- B. 长江流域高质量的生态环境
C. 长江流域高质量的发展方式
D. 长江流域高质量的区域融合
19. 2023 年 11 月 9 日，应急管理部首次颁发消防救援纪念章，其中金量“消防救援服务纪念章”颁发给（ D ）。
- A. 因公牺牲、因公致残的消防救援人员
B. 执行抢险救灾的消防救援人员
C. 执行有关重大灭火救援消防救援人员
D. 从事消防救援工作满 30 年消防救援人员
20. 中国石油发布消息，我国最大超深凝析气田—（ B ）全面建成投产。
- A. 塔里木油田和田河气田
B. 塔里木油田博孜大北气田
C. 塔里木油田牙哈凝析气田
D. 塔里木油田克深气田
21. 第 31 届世界大学生夏季运动会于 2023 年 7 月 28 日至 8 月 8 日在（ A ）举办。这是中国西部第一次举办世界性综合运动会。
- A. 成都 B. 重庆
C. 杭州 D. 北京
22. 成都第 31 届世界大学生夏季运动会的吉祥物是（ C ）
- A. 福宝 B. 乐宝
C. 蓉宝 D. 嘟宝
23. 成都第 31 届世界大学生夏季运动会主体育场位于四川成都东安湖体育公园，使用 12540 块彩釉玻璃拼出熠熠生辉的“（ A ）”
- A. 太阳神鸟 B. 凤凰
C. 巨龙 D. 太阳鸟
24. 2023 年 10 月 7 日至 8 日，全国宣传思想文化工作会议在北京召开。会议最重要的成果就是首次提出了（ B ）
- 答案：
A. 习近平法治思想
B. 习近平文化思想
C. 习近平生态文明思想
D. 习近平外交思想
25. 习近平总书记 2024 年新年贺词中指出，泱泱中华，历史何其博大，这是我们的（ A ）
- A. 自信之基、力量之源
B. 自信之基
C. 力量之源
D. 自立自强
26. 坚持走中国特色强军之路，全面推进国防和军队现代化，到（ D ）把人民军队全面建成世界一流军队。
- A. 2035 年 B. 2030 年
C. 2025 年 D. 本世纪中叶
27. 党的二十大提出，教育、科技、人才是全面建设社会主义现代化国家的基础性、战略性支撑，其中，（ D ）是第一动力。
- A. 教育 B. 科技

- C. 人才 D. 创新
28. 2023 年是习近平主席提出共建“一带一路”倡议（ A ）年。中国已经与一百五十多个国家、三十多个国际组织签署了两百多份共建“一带一路”合作文件，广泛开展文化、教育、科技、旅游、考古、经济、基础设施等多方面的交流与合作，中国与“一带一路”沿线国家关系得到深化。
- A. 十周 B. 八周
C. 五周 D. 十五周
29. （ A ）是新时代我国经济社会发展的鲜明主题，使全面建设社会主义现代化国家的首要任务。
- A. 高质量发展
B. 高水平发展
C. 高速度发展
D. 高数量发展
30. （ C ）是贯彻习近平新时代中国特色社会主义思想的一根红线。
- A. 党的建设 B. 经济建设
C. 人民至上 D. 文化建设
31. 习近平总书记指出：“时代是出卷人，我们是答卷人，（ A ）是阅卷人。”
- A. 人民 B. 国家
C. 党组织 D. 基层单位
32. （ D ）是社会主义的本质要求，是人民群众的共同期盼。
- A. 平均主义 B. 没有剥削
C. 没有压迫 D. 共同富裕
33. 全面贯彻党的教育方针，落实（ C ）根本任务，培养德智体美全面发展的社会主义建设者和接班人。
- A. 以人为本 B. 教学相长
C. 立德树人 D. 为党育人
34. 新中国成立后，第一个起到临时宪法作用的是（ D ）
- A. 《中华民国临时约法》 B. 《中华人民共和国宪法》
C. 《土地改革法》 D. 《共同纲领》
35. 新民主主义革命胜利的根本原因是（ A ）
- A. 中国共产党的正确领导
B. 国民政府反动统治的腐朽
C. 战略战术正确
D. 拥有一支人民军队并开展武装斗争
36. 中国新民主主义革命胜利的三大法宝是：党的建设、（ D ）、武装斗争。
- A. 土地革命 B. 党的领导
C. 群众路线 D. 统一战线
37. 中国人民志愿军的司令员是（ A ）
- A. 彭德怀 B. 陈赓
C. 邓华 D. 洪学智
38. 第一个五年计划开始实施的年份是（ C ）
- A. 1949 年 B. 1951 年
C. 1953 年 D. 1955 年
39. 国务院有权根据（ A ）制定行政法规。
- A. 宪法和法律 B. 宪法

值首先在于（ A ）

A. 奉献 B. 索取 C. 存在 D. 享用

53. 俗话说：“三百六十行，行行出状元”。上述俗语主要说明（ A ）

A. 人生的价值终究要通过自己所从事的事业展现出来

B. 人的创造力的形成和培养需要一定的社会条件

C. 要正确对待学习和工作中的成功和失败

D. 要正确处理个人活动和社会发展的关系

54. （B）这一价值追求回答了我们要培育什么样的公民的重大问题，涵盖了社会公德、职业道德、家庭美德、个人品德等各个方面，是每个公民都应当遵守的道德规范。

A. 富强 民主 文明 和谐

B. 爱国 诚信 敬业 友善

C. 爱国 团结 自信 正义

D. 自由 平等 公正 法治

55. 社会主义核心价值观把涉及（A）的价值要求融为一体，体现了社会主义本质要求，继承了中华优秀传统文化，吸收了世界文明有益成果，体现了时代精神。

A. 国家、社会、公民

B. 祖国、社会、公民

C. 国家、社会、个人

D. 祖国、社会、个人

56. 当今世界，文化越来越成为综合国力竞争的重要因素，成为经济社会发展的重要支撑。文化软实力的竞争，本质上是不同文化所代表的（B）的竞争。

A. 国家领导人单个人意志

B. 核心价值观

C. 国家经济实力

D. 民主思想

57. 社会主义核心价值观不是无源之水，无本之木。深深地根植于（A），是社会主义核心价值观历史底蕴的集中体现。

A. 中华优秀传统文化

B. 中国革命、建设、改革过程中的经验总结

C. 西方普世价值论

D. 改革开放以来的有益成果

58. 中国梦的内容是（A）。

A. 国家富强、民族振兴、人民幸福 B. 国家富强、民族复兴、人民幸福

C. 国家富强、民族振兴、人民安康 D. 国家富强、民族复兴、人民安康

59. （B）使得社会主义核心价值观具有强大的道义感召力。

A. 鲜明的时代性

B. 鲜明的人民性

C. 崇高的道德性

D. 伟大的科学性

60. （B）是树立社会主义核心价值观的重要基础

A. 勤学

B. 知识

C. 立志

D. 善思

61. 法律是以（B）为基础的

A. 意志

B. 经济关系

C. 政策

D. 政治

62. 我国依法治国的标准是（A）

A. 宪法和法律

B. 社会道德

C. 社会习惯

D. 风俗和礼仪

63. 我国宪法规定“中华人民共和国是工人阶级领导的、以工农联盟为基础的人民民主专政的社会主义国家。”这一规定确定了我国的（A）

A. 国体

B. 政体

C. 政党制度

D. 社会制度

64. 依法治国的主体是（A）

A. 人民群众

B. 中国共产党

C. 人民代表大会

D. 司法机关

65. 在我国的国家机构体系中，最高国家权力机关的执行机关是（A）

A. 国务院

B. 全国人民代表大会

C. 中央军事委员会

D. 全国人民代表大会常务委员会

66. 依我国刑法规定，醉酒的人犯罪，应当负（ A ）
 A、刑事责任 B、民事责任 C、经济责任 D、社会责任
67. 婚姻自由的内容是指（ D ）
 A、恋爱自由和订婚自由 B、结婚自由和同居自由
 C、订婚自由和结婚自由 D、结婚自由和离婚自由
68. 下列纠纷中，可以依照《中华人民共和国仲裁法》申请仲裁的是（ B ）。
 A、婚姻纠纷 B、合同纠纷 C、监护纠纷 D、继承纠纷
69. 《宪法》将选举权和被选举权列为公民基本权利的首位，它是公民参与管理国家和社会事务的必要前提和有效途径，也最能让人民感觉生活得更更有尊严。依法行使选举权和被选举权，是我国（ A ）
 A. 公民参与管理国家和管理社会的基础和标志
 所有公民都享有的政治权利
 C. 年满 18 周岁的公民都享有的权利
 D. 公民都具有的基本政治权利和自由
70. 我国人民民主专政的本质是（ B ）
 A. 民主与专政的统一体 B. 人民当家作主
 C. 民主具有真实性 D. 对人民实行民主，对极少数敌人实行专政
71. 货币的供应量必须以流通中所需要的货币量为限度。如果货币的供应量超过流通中所需要的货币量，可能会产生（ B ）
 A. 通货紧缩 B. 通货膨胀 C. 货币消失 D. 直接阻碍商品流通
72. 对于出行者来说，飞机和火车是可以互相替代的交通工具。如果飞机票涨价，会出现下列哪种现象（ B ）
 A. 乘飞机的人增多，乘火车的人减少 B. 乘火车的人增多，乘飞机的人减少
 C. 乘飞机和乘火车的人都增多 D. 乘飞机和乘火车的人都减少
73. 虽然商品价格的变动受供求关系的影响，但商品价格最终是由其（ B ）决定的。
 A. 属性 B. 价值 C. 供求 D. 消费
74. 消费水平受很多因素的影响，其中主要的因素是（ C ）
 A. 商品流通的数量 B. 供求关系 C. 居民收入 D. 经济水平
75. 小张同学与伙伴们一起在网上购买了哈尔滨亚布力滑雪场门票，在美丽的冰雪世界完成了一次滑雪之旅。从社会再生产的过程看，该同学的行为属于（ C ）
 ①生产活动 ②交换活动 ③分配活动 ④消费活动
 ①② B. ①③ C. ②④ D. ③④
76. 因为《战狼 2》在全球热播，收到消费者的追捧，创造了可观的票房收入。于是很多电影投资者纷纷准备投资爱国主义题材的电影。这说明（ D ）
 A. 收入是消费的基础 B. 企业以服务社会为目的
 C. 消费巨顶生产方式 D. 消费对生产具有导向作用
77. 企业是经营实体，意味着（ A ）
 A. 独立的从事生产经营，是企业的主要活动
 B. 会减轻负担，企业不宜从事生产经营以外的事情
 C. 企业是非营利性机构
 D. 企业是惟一的市场主体
78. 把按劳分配和按生产要素分配结合起来，从根本上是为了（ B ）
 A. 使分配方式更加合理 B. 促进生产力的发展
 C. 推动我国的经济体制改革 D. 调动人民群众的积极性

- 79、发行国债是（ A ）
- A. 积极财政政策的重要内容
B. 国家财政支出的重要方面
C. 积极货币政策的重要内容
D. 适度宽松货币政策的重要内容
- 80、“可上九天揽月，可下五洋捉鳖”是千百年来中国人的两大夙愿，而随着“蛟龙”深潜凯旋和“嫦娥”“玉兔”成功着月，千百年来梦想已变为现实，而这得益于近年来我国每年 20% 以上速度增长的政府科研经费的支持由此可见（ B ）
- A. 国家财政可实现社会总供给与总需求的平衡
B. 合理的资源配置离不开国家财政的大力支持
C. 国家财政是实现社会公平的物质基础
D. 科研经费增长速度最终决定科研创新水平
- 81、市场是资源配置的基本手段之一。那么，调整资源配置分配比例最直接的信号是（ A ）
- A. 市场价格
B. 市场竞争
C. 市场供求
D. 市场资源流动
- 82、计划和市场是资源配置的两种基本手段。下列选项中属于市场资源配置的是（ A ）
- A. 联想收购 IBM 的个人电脑业务
B. 浙江省政府对全日制大学生提供物价补贴
C. 政府向农户发放农资综合补贴、良种补贴
D. 中央制定收入分配制度总体方案
- 83、规范市场秩序的治本之策是（ B ）
- A. 制定市场准入规则、竞争规则和交易规则
B. 形成以道德为支撑、法律为保障的社会信用制度
C. 经济活动参与者主动运用法律维护自己的权益
D. 充分发挥市场在资源配置中的决定性作用
- 84、中国特色社会主义进入新时代，我国社会主要矛盾已经转化为（ D ）
- A. 人民日益增长的物质文化需要同落后的社会生产之间的矛盾
B. 生产力和生产关系的矛盾
C. 深化改革和发展生产之间的矛盾
D. 人民日益增长的美好生活需要和不平衡不充分的发展之间的矛盾
- 85、人类社会经历的第一个法律制度是（ A ），这一个时期是人类由无法律向有法律过渡的时期。
- A. 奴隶制法律
B. 封建制法律
C. 资本主义法律
D. 社会主义法律
- 86、法律运行的起始性和关键性环节是（ C ）。
- A. 法律适用
B. 法律遵守
C. 法律制定
D. 法律执行
- 87、（ B ）是法律实施和实现的基本途径。
- A. 立法
B. 守法
C. 司法
D. 执法
- 88、中国特色社会主义法律体系的核心是（ B ）。
- A. 法律
B. 宪法
C. 行政法规
D. 地方法规
- 89、（ A ）是中国特色社会主义最本质的特征，是社会主义法治最根本的保证。
- A. 党的领导
B. 人民当家做主
C. 依法治国
D. 以德治国
- 90、我国（ C ）是国家的根本法，是治国安邦的总章程，是党和人民意志的集中体现。
- A. 法律
B. 法规
C. 宪法
D. 制度
- 91、我国宪法的（ C ）原则，强调国家的一切权力属于人民。并且这一原则在

宪法中的表现是多方面的。

- A、党的领导原则 B、社会主义法治原则
C、人民主权原则 D、民主集中制原则
- 92、(A)是中国社会主义民主政治最鲜明的特点，是人民当家作主的重要途径和最高实现形式，是我国的根本政治制度。
A、人民代表大会制度 B、民族区域自治制度
C、政协制度 D、人民民主专政
- 93、我国现行有效法律已有 260 多部，中国特色社会主义法律体系已经形成并不断发展。这一法律体系是以 (A) 为统帅，以法律为主干，以行政法规、地方性法规为重要组成部分。
A、宪法 B、法律 C、行政法规 D、地方法规
- 94、我国刑法规定了 (B)、法律面前人人平等、罪刑相适应等基本原则。
A、定罪处罚 B、罪刑法定 C、法律适用 D、罪刑相适应
- 95、(B)是我国政治生活中发扬社会主义民主的重要形式。
A、人民代表大会制度 B、中国人民政治协商会议
C、人民民主专政 D、民族区域自治制度
- 96、治国理政不可或缺的方式是 (A)
A、德治和法治 B、公平和正义
C、德治和人治 D、法治和人治
- 97、(A)是底线的道德，也是道德的保障
A、法律 B、文化
C、政治 D、经济
- 98、我国法治思维中的公平正义不包括 (A)
A. 权力公平 B. 机会公平 C. 规则公平 D. 救济公平
- 99、我国法治思维中的人权的法律保障不包括 (A)
A. 经济保障 B. 立法保障 C. 行政保护 D. 司法保障
- 100、依照我国宪法规定，公民的政治权利不包括 (C)
A. 选举权 B. 表达权 C. 立法权利 D. 民主管理权
- 101、(A)是社会主义法治观念和法治思维的核心要求，是建设社会主义法治国家的前提条件。
A. 尊重法律权威 B. 坚持党的领导
C. 坚持社会主义道路 D. 坚持改革开放
- 102、推动高质量发展，破解发展难题，厚植发展优势，必须牢固树立并切实贯彻创新、协调、绿色、开放、(C)的发展理念。
A. 富裕 B. 竞争 C. 共享 D. 开放
- 103、近年来，以高铁为代表的铁路装备成为中国制造新的“名片”已出口到 80 多个国家和地区。这体现出中国制造业 (C)
A. “引进来”步伐加快 B. 吸引外资力度加大
C. “走出去”实力增强 D. 主导世界市场发展
- 104、我国最高国家权力机关是 (A)
A. 全国人民代表大会 B. 地方各级人民代表大会
C. 民主集中制 D. 民族区域自治
- 105、我国的国体是 (B)
A. 人民代表大会制度 B. 人民民主专政
C. 民主集中制 D. 民族区域自治制度

- 106、我国人民代表大会制度的组织和活动的最重要特点是：（ C ）
- A. 少数服从多数 B. 坚持四项基本原则
C. 实行民主集中制 D. 民主选举
- 107、我国人民法院和检察院独立行使审判权和检察权，其含义是：（ B ）
- A. 不受中央人民政府的监督 B. 不受行政机关、社会团体和个人的干涉
C. 不实行民主集中制的原则 D. 不受国家机关、社会团体和个人的干涉
- 108、我国处理民族关系的原则是（ A ）
- ①平等 ②团结 ③共同繁荣 ④和谐
- A. ①②③ B. ①③④
C. ①②④ D. ②③④
- 109、历史告诉我们，在多民族国家，只有民族团结才能实现民族解放，才能建设好国家，才能有幸福生活。这说明，民族团结是（ B ）
- ①社会稳定的前提②民族区域自治制度的核心内容 ③民族平等的基础④经济发展和进步的保证
- A. ①② B. ①④
C. ②③ D. ③④
- 110、当今世界的时代主题是（ A ）
- A. 和平与发展 B. 战争与革命
C. 竞争与合作 D. 战争与发展
- 111、不尊重别国主权，以大欺小，以强凌弱，推行霸权主义和强权政治，实践证明是行不通的。这是因为（ D ）
- 国际关系最主要的是国家与国家之间的关系
当代国际组织都以反对霸权主义和强权政治为宗旨
反对霸权主义和强权政治是经济发展的重要基础
霸权主义和强权政治违背了爱好和平、向往发展的国家和人民的共同要求
- 112、和平共处五项原则原则的基本内容是（ B ）
- ①互相尊重主权和领土完整②互不侵犯③独立自主④互不干涉内政⑤平等互利⑥和平共处⑦促进世界和平与发展
- A. ①②③④⑤ B. ①②④⑤⑥
C. ①②④⑤⑦ D. ②④⑤⑥⑦
- 113、未来科技创新必将对综合国力竞争带来重大影响，是因为（ A ）
- A. 科技实力是综合国力的重要组成部分 B. 发展中国家都是科技发达国家
C. 科技实力是经济实力的基础 D. 发展才是硬道理
- 114、人生观的核心是（ C ）
- A. 人生价值 B. 人生态度
C. 人生目的 D. 人生理想
- 115、马克思说，人的本质在其现实性上，是（ C ）。
- A. 人的一切存在的总和 B. 人的一切活动的总和
C. 一切社会关系的总和 D. 人的一切思想关系的总和
- 116、人生观是（ D ）
- A. 人们对整个世界最根本的看法和观点的总和
B. 人们对自然界的本质和发展规律最根本的观点和看法
C. 人们对社会历史的本质和发展规律最根本的观点和看法
D. 人们对人生目的和人生意义的根本看法和态度
- 117、（ A ）是人的精神世界的核心，是人精神上的“钙”。

- A. 理想信念 B. 理想 C. 信念 D. 信仰
- 118、现阶段我国各族人民的共同理想是（ D ）
- A. 建立共产主义社会 B. 诚实劳动争取美好生活
C. 建立人民当家作主的国家政权 D. 建设中国特色社会主义
- 119、马克思主义最崇高的社会理想是（ A ）
- A. 实现共产主义 B. 建设社会主义
C. 发展民主主义 D. 摆脱贫穷落后
- 120、实现中华民族伟大复兴不可或缺的精神支撑和精神动力是（ D ）
- A. 传统文化 B. 中国道路 C. 中国制度 D. 中国精神
- 121、中华民族精神的核心是（ C ）
- A. 传统文化 B. 传统道德 C. 爱国主义 D. 改革创新
- 122、时代精神的核心是（ D ）
- A. 民族精神 B. 中国精神 C. 爱国主义 D. 改革创新精神
- 123、（ C ）是一定社会形态社会性质的集中体现，在一个社会的思想观念体系中处于主导地位，体现着社会制度、社会运行的基本原则和社会发展的基本方向。
- A、人生观 B、法治素质 C、核心价值观 D、思想道德素质
- 124、社会主义核心价值观中，体现社会层面价值要求的是（ B ）。
- A、富强、民主、文明、和谐
B、自由、平等、公正、法治
C、爱国、敬业、诚信、友善
D、社会主义荣辱观
- 125、社会主义核心价值观中，哪些内容体现的是国家层面的价值要求（ A ）。
- A、富强、民主、文明、和谐
B、自由、平等、公正、法治
C、爱国、敬业、诚信、友善
D、社会主义荣辱观
- 126、社会主义核心价值观中，哪些内容体现的是公民层面的价值要求（ C ）。
- A、富强、民主、文明、和谐
B、自由、平等、公正、法治
C、爱国、敬业、诚信、友善
D、社会主义荣辱观
- 127、党的（ B ）提出，要倡导富强、民主、文明、和谐，倡导自由、平等、公正、法治，倡导爱国、敬业、诚信、友善，积极培育和践行社会主义核心价值观。
- A、十七大 B、十八大 C、十九大 D、十六大
128. 社会主义核心价值体系的精神内核是（ B ）。
- A. 中国特色社会主义共同理想
B. 社会主义核心价值观
C. 以爱国主义为核心的民族精神和以改革创新为核心的时代精神
D. 社会主义荣辱观
129. 在我国社会主义现代化建设中，每个从业人员都应当遵守职业道德。职业道德的基本要求包括爱岗敬业、诚实守信、办事公道、服务群众和（ A ）
- A. 奉献社会 B. 爱护公物 C. 尊老爱幼 D. 男女平等
130. 社会主义道德以（ B ）为重点
- A、团结友善 B、诚实守信 C、勤奋自强 D、敬业奉献
131. 道德是以（ B ）为评价方式，主要依靠社会舆论、传统习俗和内心信念

来发挥作用的行为规范的总和。

- A. 真假 B. 善恶 C. 是非 D. 美丑
132. 道德产生的主观条件是(B)。
- A. 个人利益与集体利益矛盾 B. 人的自我意识
C. 社会分工的不同 D. 社会关系
133. 道德赖以产生的客观条件是(A)。
- A. 社会关系 B. 人的自我意识
C. 生产实践 D. 人类的自我进化
134. (A) 创造了人和人类社会, 是人类道德起源的首要前提。
- A. 劳动 B. 自然 C. 宗教 D. 合作
135. 道德的产生、发展和变化, 归根到底根源于(A)。
- A. 社会经济关系 B. 在法律上的反映
C. 全体人民的意愿 D. 统治阶级的意志
136. (C) 是指道德通过评价等方式, 指导和纠正人们的行为和实践活动, 协调社会关系和人际关系的功效与能力。
- A. 道德的认识功能 B. 道德的规范功能
C. 道德的调节功能 D. 道德的导向功能
137. 在道德的历史发展中出现了多种历史类型, 其中出现最早的是(A)。
- A. 原始社会的道德 B. 奴隶社会的道德
C. 封建社会的道德 D. 资本主义的道德
138. 社会公德最基本的要求是(C)
- A. 文明礼貌 B. 助人为乐 C. 遵纪守法 D. 保护环境
139. 我们在处理个人与集体、个人与他人的关系时, 应当遵守的原则是(C)
- A. 主观为自己, 客观为别人 B. 只有集体利益, 没有个人利益
C. 先集体后个人, 先他人后自己 D. 以自我为中心, 一切从个人利益出发
140. 社会主义道德的核心是(D)
- A. 慎独 B. 勤劳勇敢 C. 艰苦朴素 D. 为人民服务
141. 人们在处理个人与他人、个人与社会的一系列行为中所表现出来的比较稳定的道德倾向和特征称为(B)
- A. 道德观 B. 道德品质 C. 道德理想 D. 道德行为
142. 孔子强调“己欲立而立人, 己欲达而达人”, 墨子提出“兼相爱, 交相利”, 体现的是中华传统美德中(B)的基本精神。
- A. 重视整体利益, 强调责任奉献 B. 推崇“仁爱”原则, 注重以和为贵
C. 提倡人伦价值, 重视道德义务 D. 追求精神境界, 向往理想人格
143. 中国革命道德萌芽于(C)前后, 发端于中国共产党成立以后蓬勃发展的伟大工人运动和农民运动, 经过土地革命战争、抗日战争、解放战争以及社会主义革命、建设、改革的长期发展, 逐渐形成并不断发扬光大。
- A. 义和团运动 B. 太平天国运动 C. 五四运动 D. 一二九运动
144. 社会主义道德的核心是(B)。
- A. 集体主义 B. 为人民服务 C. 共产主义 D. 爱国主义
145. (B) 是社会主义道德的原则。
- A. 爱国主义 B. 集体主义 C. 为人民服务 D. 遵纪守法
146. 下列不属于公共生活的特征的是(D)。
- A. 活动范围的广泛性 B. 活动内容的开放性
C. 交往对象的复杂性 D. 活动方式的一致性

147. 下列不属于社会公德的主要内容的是(D)。
- A. 文明礼貌 B. 助人为乐 C. 爱护公物 D. 勤俭持家
148. “干一行爱一行，爱一行钻一行”体现了职业道德中(A)的要求。
- A. 爱岗敬业 B. 诚实守信 C. 办事公道 D. 奉献社会
149. 敲门时应有节奏的敲(A)下。
- A、3 B、4 C、5 D、6
150. 打电话，第一声应说(B)
- A、喂 B、您好 C、干什么 D、找谁
151. (C)是人际交往所必须遵守的行为规范
- A、尊重 B、道德 C、礼仪 D、相互理解
152. 道德不是依靠(C)维系的
- A、内心信念 B、传统习惯 C、金钱物质 D、社会舆论
153. 文明礼仪蕴含在(C)中
- A、情景 B、内心 C、细节 D、交往
154. 与他在正式场合交谈时要严肃认真，还要注意语言的(A)
- A、准确规范 B、慢条斯理 C、声音洪亮
155. 客人来访时，我们要为客人打开房门。当房门向外开时(A)进
- A、客人先进 B、我们先进 C、同时进门
156. “高温”是每年夏天贯穿始终的主题，从6月中旬开始，高温会在全国各地逐一登场，遇到高天气时的正确做法是(A)。
- ①不要长时间待在空调房内
②不要在烈日下暴晒，尽量减少户外运动
③要及时补充水分，不要喝生水、冰水
④浑身大汗时，最好立即用冷水洗澡
- A. ①②③ B. ①②④ C. ②③④ D. ①②③④
157. 理学上南北的分界线是(C)。
- A. 长江 B. 黄河 C. 秦岭淮河一线 D. 梅岭
158. 在同一个平面上互相垂直且有公共原点的两条数轴构成平面直角坐标系，简称(A)。
- A. 直角坐标系 B. 位置坐标系 C. 平面图 D. 三维图
159. 北欧建筑物的屋顶多呈尖状，主要原因是当地(C)。
- A. 日照不足 B. 夏秋多大风 C. 降雪量大 D. 年温差较大
- A. 不增加 B. 增加 C. 减少 D. 不明确
160. 武汉三镇位于中国的长江、汉江交汇处，隔江鼎立，是武昌、汉口、(A)三座重镇的合称，范围即是今日武汉市的七个中心城区。
- A. 汉阳 B. 阜阳 C. 襄阳 D. 酉阳
161. 在我国风俗中，常常避讳73和84这两个岁数，因为这是两位历史人物去世的年龄，这两个历史人物是(A)。
- A. 孔子和孟子 B. 老子和庄子 C. 汉高祖和汉武帝 D. 周武王和周幽王
162. 中国空间站基本构型中的“三舱”是天和核心舱、问天实验舱、(A)实验。

- A. 梦天 B. 问天 C. 嫦娥 D. 探月
163. 神州(D)飞船的成功对接完成了中国空间站的初步完整构型。
A. 十二号 B. 十三号 C. 十四号 D. 十五号
164. 著名书籍《物种起源》一书的作者是(C)。
A. 哥白尼 B. 牛顿 C. 达尔文 D. 马克思
165. 大三巴牌坊位于我国(B)。
A. 香港 B. 澳门 C. 海南 D. 上海
166. 被称为“万园之园”的是指(B)。
A. 苏州园林 B. 圆明园 C. 乔家大院 D. 颐和园
167. 世界上最长的运河是(C)。
A. 苏伊士运河 B. 巴拿马运河 C. 京杭大运河 D. 基尔运河
168. 世界上石油资源分布最集中并且约占世界储量一半还多的地区是(A)。
A. 中东地区 B. 俄罗斯 C. 墨西哥沿岸 D. 英国北海
169. 下列属于我国地理学著作的是(D)。
A. 《太平广记》 B. 《梦溪笔谈》 C. 《天工开物》 D. 《水经注》
170. 我国嫦娥系列航天器在(B)发射基地发射。
A. 酒泉 B. 西昌 C. 文昌 D. 太原
171. “文景之治”出现在(B)个朝代?
A. 周 B. 汉 C. 唐 D. 宋
172. 拉开我国新民主主义革命序幕的历史事件是(B)。
A. 辛亥革命 B. 五四运动 C. 中国共产党的成立 D. 国共合作
173. 中国人民解放军海军诞生地是(B)。
A. 山东威海 B. 江苏泰州 C. 上海吴淞 D. 浙江嘉兴
174. 中国历史上第一部纪传体通史, 鲁迅称之为“史家之绝唱, 无韵之离骚”的是(A)。
A. 《史记》 B. 《汉书》 C. 《论衡》 D. 《神灭论》
175. 我国少数民族中, 人口最多的是(D)。
A. 满族 B. 汉族 C. 藏族 D. 壮族
176. 元朝时期, 中国实行的官员选拔制度是(A)。
A. 科举制度 B. 儒家制度 C. 公推制度 D. 职业制度
177. 以下哪位皇帝是明朝的开国皇帝(B)。
A. 明成祖朱棣 B. 明太祖朱元璋 C. 明仁宗朱高炽 D. 明宣宗朱瞻基
178. 中国共产党成立于哪一年(B)。
A. 1911年 B. 1921年 C. 1949年 D. 1959年
179. 以下哪位是中国古代最重要的地理学家之一(B)。
A. 鲁迅 B. 酈道元 C. 郭沫若 D. 杨子荣
180. 以下哪个文化因元朝统治而在中国得到了广泛传播(D)。
A. 波斯文化 B. 罗马文化 C. 印度文化 D. 蒙古文化
181. 以下哪位历史人物是中国明代的著名文学家和诗人(D)。
A. 杜甫 B. 李白 C. 王维 D. 杨维桢
182. 以下哪个历史事件是中国古代经典之一《红楼梦》的写作背景(D)。
A. 三国时期 B. 唐朝 C. 明朝 D. 清朝
183. 以下哪位皇帝在位期间实行了“废科举、兴学校”政策(C)。

- A. 康熙皇帝 B. 乾隆皇帝 C. 光绪皇帝 D. 嘉庆皇帝
184. “台湾者，中国之土地也”。历史上，中央王朝首次在台湾地区正式建立的行政机构是（ C ）。
- A. 台湾府 B. 宣政院 C. 澎湖巡检司 D. 台湾省
185. 某日早晨，东营的小华把刚拍摄的日出照片发给在国外出差的妈妈。妈妈立即回复了一张照片说：我正在欣赏日落。造成时间差异的原因是（D）。
- ①两地纬度不同 ②两地经度不同
③地球的公转 ④地球的自转
- A. ①② B. ③④ C. ①③ D. ②④
186. 在日常生活中，我们能观察到由地球公转产生的现象是（ C ）
- A. 旭日东升 B. 昼夜更替 C. 寒来暑往 D. 高处不胜寒
187. 世界上最深的海沟是（ B ）
- A. 太平洋海沟 B. 马里亚纳海沟 C. 巴拿马海沟 D. 安第斯海沟
188. 以下哪个地区是世界上最大的热带雨林地区（ A ）
- A. 亚马逊河流域 B. 刚果流域 C. 孟加拉湾 D. 长江流域
189. 以下哪个城市被誉为“东方明珠”（ B ）
- A. 东京 B. 上海 C. 广州 D. 北京
190. 下列著名建筑位于法国的有（ D ）
- ①胡夫金字塔 ②埃菲尔铁塔 ③泰姬陵 ④凡尔赛宫
- A. ①② B. ③④ C. ①③ D. ②④
191. 多数情况下，科学家是通过（ D ）来判断一条鱼的年龄。
- A. 鱼鳃 B. 鱼尾 C. 鱼鳍 D. 鱼鳞
192. 黄土高原古老的文明和独特的地理环境，形成了许多独特的民风民俗。下列民风 民俗中均能体现“黄土风情”的一组是（ C ）。
- ①窑洞②信天游③泼水节④白羊肚头巾⑤藏袍
- A. ③④⑤ B. ①③⑤ C. ①②④ D. ②③④
193. 人骑自行车时，直接使车前进的力是（ D ）。
- A. 脚的蹬力 B. 链条对后车轮的拉力
C. 前轮受地面的摩擦力 D. 后轮受地面的摩擦力
194. 下列现象中，利用了大气压的作用的是（ A ）。
- A. 用吸管吸饮料 B. 用图钉把地图钉在墙上
C. 深水潜水员需要穿特制的抗压潜水服 D. 用注射器把药液注入肌肉
195. 一位父亲与他 5 岁的儿子一起上楼回家，对此，下列说法中错误的是（ C ）。
- A. 爬相同的楼梯，儿子体重小的做的功少
B. 爬相同的楼梯，父亲体重大的做的功多
C. 爬相同的楼梯，儿子比父亲先到达，儿子的功率一定大
D. 爬相同的楼梯，父亲比儿子先到达，父亲的功率一定大
196. 三星堆反映的是（ B ）的文明。
- A. 古滇国 B. 古蜀国 C. 楚国 D. 吐蕃
197. 国际日期变更线是（ A ）。
- A. 180 度经线 B. 150 度经线 C. 30 度经线 D. 90 度经线
198. 下面的省区轮廓图所代表的省份及其省会是（ B ）。
- A. 鄂、武汉 B. 青、西宁 C. 桂、南宁 D. 川、成都
199. 导致我国南北方耕作制度（熟制）差异的主要自然因素是（ C ）。

- A. 地形 B. 水分 C. 热量 D. 土壤
200. 以下不属于物理信息的是(D)。
- A. 声 B. 光 C. 颜色 D. 食物链
201. 毒害品和腐蚀品对人体都有一定危害。腐蚀品是通过皮肤接触使人体形成(D)。
- A. 化学烫伤 B. 化学烧伤 C. 化学溶解 D. 化学灼伤
202. 易燃品闪点在 28 摄氏度以下, 气温高于 28 摄氏度时应在(B)。
- A. 低温运输 B. 夜间运输 C. 晴天运输 D. 冬季运输
203. 安全电压的范围为(A)。
- A. 36 伏以下 B. 36 伏至 100 伏
C. 100 伏至 220 伏 D. 220 伏至 380 伏
204. 山东省和山西省以(C)作为省界。
- A. 华山 B. 燕山 C. 太行山 D. 泰山
205. 世界上全部位于北半球的大洲是(A)。
- A. 欧洲、北美洲 B. 亚洲、欧洲 C. 非洲、北美洲 D. 大洋洲、亚洲
206. 下列是人们居家生活用到的, 其中哪个不属于晶体?(C)
- A. 食盐 B. 蔗糖 C. 蜡烛 D. 糖精
207. 正常人的肌肉约占体重的(B)。
- A. 30%-35% B. 35%-40% C. 40%-50% D. 45%-50%
208. 国家卫健委消息, 2035 年左右我国(A)及以上老年人口将突破 4 亿。
- A. 60 岁 B. 50 岁 C. 65 岁 D. 70 岁
209. 夜盲症是缺乏哪种维生素导致的(A)。
- A. 维生素A B. 维生素B C. 维生素C D. 维生素D
210. 下列食品中, 最易霉变产生黄曲霉素的是(A)。
- A. 瓜子 B. 土豆 C. 花生 D. 猪肉
211. 肉类含脂肪最低的是(C)。
- A. 猪肉 B. 牛肉 C. 鸡肉 D. 羊肉
212. 什么是四害?(A)
- A. 苍蝇、蚊子、老鼠、蟑螂 B. 苍蝇、蚊子、老鼠、臭虫
C. 苍蝇、蚊子、老鼠、麻雀 D. 苍蝇、蚊子、老鼠、果蝇
213. 一位女士由于驾车超速而被警察拦住。警察走过来对她说: “太太, 您刚才的车速是 60 千米每小时!” 这位女士反驳说: “不可能的! 我才开了 7 分钟, 还不到一个小时, 怎么可能走了 60 千米呢?” 从以上对话可知, 这位女士没有理解下面哪个科学概念(A)
- A. 速度 B. 时间 C. 路程 D. 以上都不是
214. 部分智能手机有智慧语音功能, 手机主人说出已录人的“唤醒词”就可以唤醒手机, 这是利用声音特性中的(D)
- A. 音调 B. 响度 C. 频率 D. 音色
215. 电流的方向是(B)
- A. 电子的流动方向 B. 正电荷的流动方向
C. 电磁波传播方向 D. 电荷的流动方向
216. 下列现象中属于扩散现象的是(B)
- A. 乡村里炊烟袅袅升起
B. 腌制鸭蛋时将蛋泡在盐水中, 几天后蛋变咸了。
C. 风起时花粉在花朵间传播

- D. 冬天里雪花漫天飞舞
217. 下列应用利用了中和反应的说法, 正确的是(D)
- A. 酸、碱发生中和反应后的溶液一定显中性。
 B. 两种化合物之间发生的反应都是中和反应。
 C. 有盐和水生成的反应一定是中和反应。
 D. 酸、碱反应的实质是 $H^+ + OH^- = H_2O$
218. 甲、乙两个做匀速直线运动的物体的路程之比为 5:3, 速度之比为 2:1, 则两车通过的时间之比为(C)。
- A. 10: 3 B. 6: 5 C. 5: 6 D. 3: 10
219. 农作物肥料最主要的三要素指的是(C)。
- A. 硅、钾、磷 B. 钙、镁、磷 C. 氮、磷、钾 D. 锌、钾、氮
220. 我们的生活离不开能源, 下列做法利用了化学能的是(B)。
- A. 太阳能热水器 B. 干电池 C. 水力发电 D. 温泉浴
221. 关于水的组成, 叙述正确的是(D)。
- A. 由氢气和氧气组成 B. 由氢分子和氧分子组成
 C. 由2个氢原子和1个氧原子组成 D. 由氢元素和氧元素组成
222. 下列反应能产生氢气的是(C)。
- A. 硝酸加铜片 B. 盐酸加铜片 C. 盐酸加镁带 D. 氢氧化钠加铁片
223. (A)是海洋能发电的一种, 但是它是海洋能利用中发展最早、规模最大、技术较成熟的一种。
- A 潮汐能发电 B 波力发电 C 潮流发电 D 温差发电
224. 在一个温度恒定的室内, 你赤脚站在瓷砖上觉得比站在棉花上冷, 是因为(B)
- A 棉花温度较高 B 瓷砖导热较快 C 身体的错觉 D 瓷砖温度比棉花低
225. 破坏臭氧层的主要污染源是(D)。
- A. 工厂、家用炉灶燃烧矿物能源 B. 汽车尾气
 C. 有色金属冶炼工业排放废气 D. 工业、家庭广泛使用冰柜和冰箱
226. 电脑的中央处理器英文简称为(A)。
- A. CPU B. ABC
 C. NBA D. NPC
227. 在计算机存储单位中, 1M= (D)kb。
- A. 128 B. 256
 C. 512 D. 1024
228. 世界上首先实现存储程序的电子数字计算机是(A)。
- A. ENIAC B. UNIVAC
 C. EDVAC D. EDSAC
229. 因特网上每台计算机有一个规定的“地址”, 这个地址被称为(B)地址。
- A. TCP B. IP
 C. Web D. HTML
230. 计算机病毒是(B)。
- A. 计算机系统自生的 B. 一种人为特制的计算机程序
 C. 主机发生故障时产生的 D. 可传染疾病给人体的
231. 计算机病毒的传染途径主要有(D)。
- A. 操作者感染 B. 屏幕和磁盘
 C. 接触和磁盘 D. 磁盘和网络

232. 鼠标属于计算机的(C)。

- A. 特殊光标 B. 输出设备
C. 输入设备 D. 控制器

233. 在 Internet 的域名中, 代表计算机所在国家或地区的符号 “.cn ” 是指 (A)。

- A. 中国 B. 台湾
C. 香港 D. 加拿大

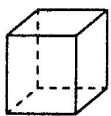
234. 在对数字格式进行修改时, 如出现 “#####”, 其原因为(B)。

- A. 格式语法错误 B. 单元格宽度不够
C. 系统出现错误 D. 以上答案都不是

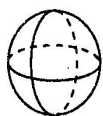
235. (B) 是 Excel 用来存储数据的基本单位。

- A. 列 B. 单元格
C. 工作簿 D. 工作表

236. 下列选项中, 左视图为圆形的是 (C)。



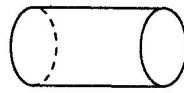
①正方体



②球



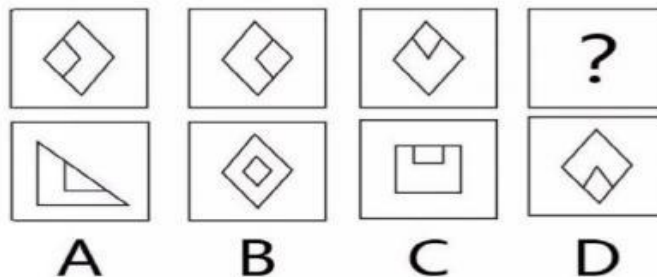
③圆锥



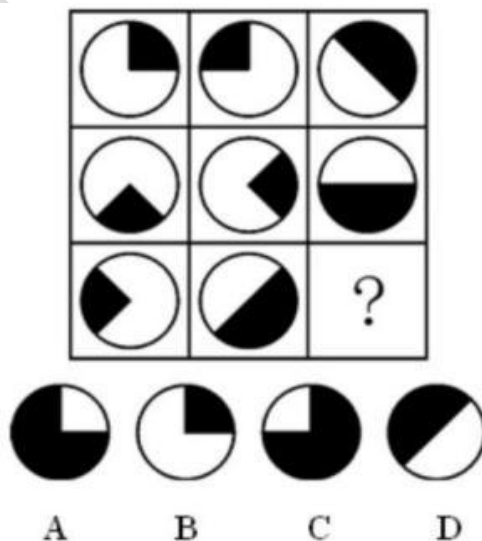
④圆柱

- A. ①② B. ③④ C. ②④

237. 按照图形给出的逻辑特点, 下列选项中, 填入空白处最恰当的是(D)。



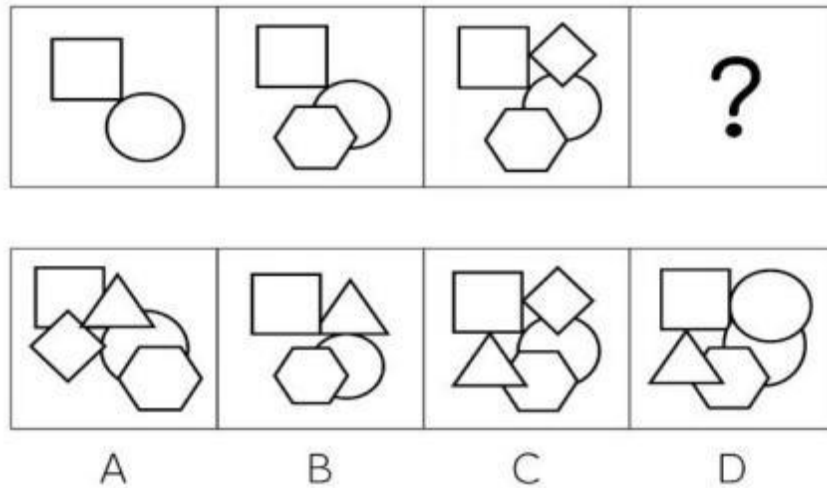
238. 按照给出图形的逻辑特点, 下列选项中, 填入空白处最恰当的是(A)。



239. 左边的立体图形是由圆柱体切掉一块得到的，如果从任一面剖开，以下哪一项可能是该立体图形的截面？ (D)



240. 按照给出图形的逻辑特点，下列选项中，填入空白处最恰当的是(D)。



二、判断题

1. (×) 当今世界各国之间的竞争本质上是一种军事实力的竞争。
2. (×) 中国古代道德讲“三从四德”、“三纲五常”等封建落后的准则，这些与为人民服务的社会主义道德不相符，因此，我们应当完全抛弃古代道德。
3. (×) 依据《中华人民共和国民法典》规定，行为人为公共利益实施新闻报道、舆论监督等行为，但使用了侮辱性言辞等贬损他人名誉，影响他人名誉的，不承担民事责任。
4. (√) 发展不平衡，主要指各区域各领域各方面发展不平衡，制约了全国发展水平提升。
5. (√) 习近平指出实现中华民族伟大复兴就是中华民族近代以来最伟大的梦。
6. (√) 习近平新时代中国特色社会主义思想已经写入党章。
7. (√) 在生态文明建设方面，美丽中国成为中华民族追求的新目标。
8. (√) 2014年2月27日，我国将每年12月13日定为国家公祭日，纪念30多万死难同胞，与该公祭日直接相关的历史事件是南京大屠杀。
9. (×) 拜访别人办公室的时候，你应该推门而入，再作自我介绍。
10. (√) 在公众场合，如果你非常困倦而想打呵欠，应该：用手或其他东西挡住嘴巴。
11. (×) 在现场观看升国旗时，应肃立站好，如旁边人与你交谈，你应该不予理睬。
12. (√) 理想是精神上的钙，没有崇高的理想信念，就会导致精神上的“软骨病”。
13. (√) 创新创造是中华民族最深沉的民族禀赋。
14. (×) 与程序公正相比，实体公正更重要。
15. (×) 我国目前形成了以民法为核心的法律体系。
16. (×) 学生思想品德只是学校、社会、家庭等外界因素综合作用的结果。

17. (√) 社会公德是指在社会交往和公共生活中公民应该遵守的道德准则。
18. (√) 道德主体的完成不是一劳永逸的事情。
19. (√) 弘扬以改革创新为核心的时代精神，必须大力推进理论创新、制度创新、科技创新、文化创新以及其他各方面的创新。
20. (√) 对人民感情的深浅程度，是检验一个人对祖国忠诚程度的试金石。
21. (×) 爱国主义只要求我们爱中国，并不要求我们必须爱社会主义中国。
22. (√) 科学没有国界，但科学家有祖国。
23. (√) 习近平外交思想强调，要坚持以维护党中央权威为统领加强党对对外工作的集中统一领导。
24. (√) 发展和安全是一体之两翼、驱动之双轮。发展是安全的基础和目的，安全是发展的条件和保障，发展和安全要同步推进。
25. (√) “十个明确”“十四个坚持”“十三个方面成就”“六个必须坚持”内在贯通、有机统一，共同构成了习近平新时代中国特色社会主义思想的科学体系。
26. (√) “水能载舟、亦能覆舟”赢得人民信任、得到人民支持，党就能够克服任何困难。反之，我们将一事无成，甚至走向衰败。
27. (√) 坚持全民共享、全面共享、共建共享、渐进共享，使全体人民有更多获得感、幸福感、安全感，朝着共同富裕方向稳步前进。
28. (√) 为人民谋幸福、为民族谋复兴，是我们党的初心和使命，是党领导现代化建设的出发点和落脚点。
29. (√) 坚持走中国特色社会主义政治发展道路，全面发展全过程人民民主，社会主义民主政治制度化、规范化、程序化全面推进。
30. (√) 民生是广大人民群众最关心最直接最现实的利益问题，民生工作离老百姓最近，同老百姓生活最密切。
31. (×) 在现实生活中，由于人们的立场和观点不同，对人活着的意义的理解不同，存在着各种不同的人生观。其中，我们倡导的科学的人生观是合理利己主义的人生观 (×)
32. (√) 社会实践是科学理论、创新思维的源泉，是检验真理的试金石，也是青年锻炼成长的有效途径。
33. (√) 中国的未来属于青年，中华民族的未来也属于青年。青年一代的理想信念、精神状态、综合素质，是一个国家发展活力的重要体现，也是一个国家核心竞争力的重要因素。
34. (×) 从东南方吹向西北方的风是西北风。
35. (√) 天气是不断变化的，它影响着地球的一切生物。
36. (×) 同一时间，任何地方的温度是一样的。
37. (√) 在雨量器的容器中，水面的高度值就是降水量。
38. (×) 日晴天的时候，天空中是没有云的。
39. (×) 厨房污染主要来自燃料燃烧和烹调加热两个方面。
40. (×) 神舟飞船选在晚上发射的原因，是便于飞船发射升空时地面人员和设备的观测。
41. (×) 我们通常利用酒精灯的内焰给物体加热。
42. (×) 我们可以用过滤的方法把溶解在水里溶解的食盐分离出来。
43. (×) 石棉网的作用是让物体加热的更快。
44. (√) 气象上把风的来向确定为风向。
45. (√) HB 铅笔比 2B 铅笔硬。。
46. (√) 台风和强热带风暴相比，台风破坏力更大。

47. (√) 口腔对食物的初步消化, 是由牙齿、舌头、唾液共同完成的。
48. (×) 我们呼出来的气体都是二氧化碳。
49. (√) 发现泥石流迹象, 应该立即观察地形, 向沟谷两侧山坡或高地跑。
50. (×) 可溶物在水中的溶解是没有限制的。
51. (√) 云是由悬浮在空中的大量微小水滴或冰晶组成。
52. (×) 潜望镜是利用光的折射原理制成的。
53. (×) 计算机中的所有信息都是以 ASCII 码的形式存储在机器内部的。
54. (√) 1946 年第一台计算机问世以来, 计算机的发展经历了 4 个时代, 它们是电子管计算机、晶体管计算机、小规模集成电路计算机、大规模及超大规模集成电路计算机。
55. (√) 计算机网络的目标是实现资源共享和信息传输。
56. (√) 电子邮件到达时, 如果对方并没有开机, 那么邮件将保存在服务商的 E-mail 服务器上。
57. (×) 域名中的后缀 “.edu” 表示军事机构。
58. (×) 微信、QQ、优酷都属于即时通信工具。
59. (√) www 又称 World Wide Web, 中文名称为万维网。
60. (√) 选定对象后, 按 Shift+Delete 键能直接删除硬盘上被选中的对象而不将其送入回收站。